



۱- جمله های زیر را کامل کن .

..... خواندیم .

..... من کتابم را خواندم .

..... خواندید .

..... تو

..... خواندند .

..... او



۲- معنی کلمه های زیر را بنویس .

..... با حوصله : بی ادب :

..... نا آشنا : بی سواد :

۳- درسا ۱۲۰ صفحه از یک کتاب را خواند . اگر کتاب ۳۵۰ صفحه داشته باشد ، او چند صفحه ی دیگر باید

..... بخواند؟

۴- رقم ۳ در هر یک از عددهای زیر در چه مرتبه ای قرار دارد ؟

۵ ۱ ۳

۳ ۹ ۰

۸ ۳ ۴

۵- مدرسه ی ایمان ۳۰۰ دانش آموز و مدرسه ی ادب ۳۹۵ دانش آموز دارد . این دو مدرسه چند

..... دانش آموز دارند ؟

۶- اندام حسّ بینایی و اندام حسّ بویایی نام دارد .



۷- هم معنی کلمه های زیر را بنویس .

پاسخ :

غمگین :

فراوان :

بیمار :

۸- با کلمه های زیر جمله بساز .

* آفتابی :

* آسمان آبی :

۹- عددهای زیر را به صورت گسترده بنویس .



۴۸۶ →

۷۳۵ →

۹۷۱ →

۳۱۴ →

۱۰- جمع های زیر را انجام بده . (فرایندی)

$$\begin{array}{r} ۲۴۹ \\ + ۱۵۰ \\ \hline \end{array}$$

$$\begin{array}{r} ۵۷۱ \\ + ۲۲۳ \\ \hline \end{array}$$

$$\begin{array}{r} ۴۶ \\ + ۲۳ \\ \hline \end{array}$$

۱۱- فکر کن قرار است به جای سفره ی هفت سین ، سفره ی هفت شین درست کنی . از چه چیزهایی

استفاده می کنی ؟

۱۲- چه چیزهایی باعث آلودگی هوا می شود ؟

.....



لطیفه :

یک روز قلی می ره عروسی . تو عروسی برف شادی می ریزند ،

قلی سرما می خوره !

۱۳- با توجه به کلمه ی داخل کمانک ، جمله را دوباره بنویس .

* سارا به مهمانی رفت . (تو)

* ما به سینما رفتیم . (آن ها)

۱۴- می دانیم که « ای » بعد از کلمه هایی می آید که آخر آن ها « ه » یا « هـ » باشد. مانند : خانه ای ، خورده ای حالا سه کلمه بنویس که آخر آن ها « ای » داشته باشد .

۱۵- با توجه به ترتیب عددها ، ادامه بده .

۳۸ - ۴۱ - ○ - ○ - ○ - ○


۲۰ - ۱۸ - ○ - ○ - ○ - ○

سال نو


مبارک!



۱۶- ساعت چند است ؟



ساعت و دقیقه



ساعت و دقیقه



۱۷- رویا ۴۱۲ تومان داشت . پدرش هم ۳۸۵ تومان به او داد . حالا رویا چند تومان دارد ؟

۱۸- حرکت زمین به دور خودش چند ساعت طول می کشد ؟

۱۹- مخالف کلمه های زیر را بنویس .

..... ≠ ز رنگ

..... ≠ بالا

..... ≠ تمیز


..... ≠ بیدار





۲۰- نماز خانه یعنی جایی که نماز می خوانند . ساعت ساز یعنی :

کارخانه یعنی : بنا یعنی :



۲۱- عدد ۲۳ را با رسم چوب خط نشان بده .

۲۲- عددهای زیر را به صورت تقریب صدتایی بنویس .

۴۵۹ → -----

۸۲۳ → -----


۲۳- لیان برای دوختن شلوار ۱۱۰ سانتی متر پارچه و برای دوختن کت ۲۴۸ سانتی متر پارچه لازم دارد. او چند سانتی متر پارچه لازم دارد ؟



ساک نو مبارک

۲۴- جهت وزش باد را با چه وسیله ای نشان می دهند ؟

عزیزم مدامت را بردار و در کادر زیر سفره ی هفت سین را بکش .



۲۵- جمله های زیر را با « آیا » سؤالی کن و با علامت مناسب بنویس .

الف (گل ها در بهار باز می شوند .

ب (پدر بزرگ مهربان است .

۲۶- این کتاب ، یعنی کتابی که نزدیک است .

آن مدرسه یعنی

همین دختر یعنی

۲۷- جمع و تفریق های زیر را انجام بده . (انتقالی)

$$\begin{array}{r} 453 \\ + 129 \\ \hline \end{array}$$

$$\begin{array}{r} 65 \\ + 35 \\ \hline \end{array}$$

$$\begin{array}{r} 391 \\ - 282 \\ \hline \end{array}$$


$$\begin{array}{r} 44 \\ - 25 \\ \hline \end{array}$$

۲۸- دو عدد سه رقمی بنویس که دهگان آن از همه بزرگتر باشد .

۲۹- بر اثر لرزش چیزها به وجود می آید .

۳۰- یک صدای نازک و یک صدای کلفت مثال بزن .

.....



لطیفه :

آموزگار : مینا چند ساله داری ؟

مینا : ۱۵ سال

آموزگار : چه طور ۱۵ ساله داری ؟ تو که کلاس دومی !

مینا : کلاس اول ۷ ساله بودم . امسال هم ۸ ساله دارم . با هم می شه ۱۵ سال .





۳۱- با توجه به مثال کامل کن .

آموزشگاه یعنی محل آموزش

نمایشگاه یعنی
 زیارتگاه یعنی

۳۲- پنج کلمه بنویس که حرف « و » در آن ها صدای « اُ » بدهد . مانند: خورشید

۳۳- عددهای زیر را از کم تر به بیش تر مرتب کن .

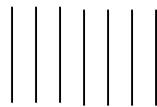
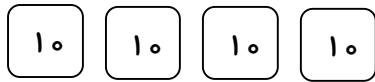
۸۱۹ - ۲۱۱ - ۵۸۳ - ۴۹۱ - ۳۷ - ۴۵۳ - ۸۹۵

معما

ماه قبل ، خروس آوا ۱۰ تخم گذاشته بود . آوا نصف آن ها را خورد . چند تخم برای آوا باقی مانده است؟

۳۴- تفریق را روی شکل نشان بده .

ده تایی	یکی
- ۴	۷
۱	۰



۳۵- برای اندازه گیری سردی و گرمی هوا از وسیله ای به نام

استفاده می کنند .

* زیبا ترین شعری که بلدی بنویس و آن را به هر که دوست داری تقدیم کن .

.....




۳۶- به کلمه های زیر یک بار « تر » و یک بار « ترین » اضافه کن و با آن ها جمله بساز .

زیبا :

زیبا :



۳۷- پنج کلمه بنویس که تنوین داشته باشند. مانند : مخصوصاً




۳۸- کلمه ی مشترک را بنویس .

حفظ : دانش آموز:

۳۹- نجاری یک چوب ۱۰۰ سانتی متری را از وسط بریده است ؟ به نظر شما اندازه ی هر تکه چند سانتی متر می شود ؟

.....

۴۰- برای شکل های زیر یک خط تقارن بکش .



۴۱- سارا ۲۵۸ تومان داشت . او ۴۲۰ تومان هم عیدی گرفت . حالا او چند تومان دارد ؟

.....

۴۲- اگر نور از چیزی رد نشود ، در پشت آن ، چه چیزی درست می شود ؟

.....

چیستان :

آن چیست که سه بازیکن دارد ، ۱۱ تماشاگر ؟

۴۳- پنج کلمه بنویس که در آخر آن ها « ان » جمع باشد . مثل دوستان

.....

۴۴- در جمله های زیر یک کلمه جا افتاده است . آن را پیدا کن و جمله را دوباره بنویس .




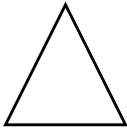
.....

- من مدرسه درس می خوانم .

.....

- ما باید همه مهربان باشیم .

۴۵- نام شکل های زیر را بنویس .



۴۶- جاهای خالی را پر کن .

۲۳۸ برابر است با ده تایی و صدتایی و یکی .

۴۷- سارا ۸۷ پیراهن دوخته بود . او دیروز ۲۵ پیراهن را فروخت . چند پیراهن برای او باقی مانده است ؟

.....

۴۸- از و برای پیام رسانی استفاده می شود.

الف : نور ب: صدا ج: هر دو

لطیفه :

یک روز مردی به کارواش می رود . کارگر کارواش از او می پرسد : « چه می خواهی ؟ » مرد جواب می دهد : « آمدم ماشینم را بشویم ! » کارگر دوباره می پرسد : « پس ماشینت کو ؟! » مرد می گوید : « راه نزدیک بود پیاده آمدم ! »



۴۹- جاهای خالی را کامل کن .

.....لاً - چرا.....انی - ح.....رت - نصیب.....ت -وض - منت.....ر

۵۰- در جاهای خالی ، کلمه ی مناسب بنویس .


..... = پرنده + گان = خسته + گی

..... = آفریده + گار = همیشه + گی

۵۱- جاهای خالی را کامل کن .

من و مریم به سینما

شادی و سارا به سینما




بزرگوار مبارکباد





۵۲- یک عدد سه رقمی بنویس که یکان آن بزرگ ترین عدد یک رقمی ، دهگان ۵ تا کم تر از یکانش و

صدگان ۷ باشد .



۵۳- تفریق های زیر را انجام بده . (فرایندی)

$$\begin{array}{r} ۸۴۸ \\ - ۵۱۳ \\ \hline \end{array}$$

$$\begin{array}{r} ۳۸۶ \\ - ۱۵۴ \\ \hline \end{array}$$

$$\begin{array}{r} ۳۷۹ \\ - ۱۲۹ \\ \hline \end{array}$$

۵۴- چشمه ی نور چیست ؟

.....

۵۵- چهار کلمه بنویس که « خوا » در آن صدای « خا » بدهد . مانند : خواهش

.....

۵۶- به کسی که اهل شیراز باشد می گویند .

به چیزی که از جنس آهن باشد..... می گویند .

۵۷- سمیه ۲ بسته ی ده تایی و ۸ یکی مداد دارد . سمانه هم ۳ بسته ی ده تایی و ۷ یکی

مداد دارد . سمیه و سمانه روی هم چند مداد دارند ؟

.....

۵۸- زیر عددهای ۳ رقمی خط بکش .

۱۹۰ - ۵۵۳ - ۸ - ۱۹۶ - ۴۷ - ۸۵۱





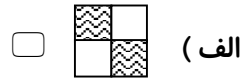
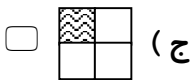
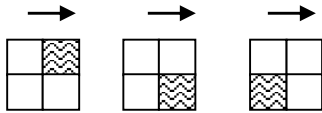
۵۹- علامت مناسب بگذار. < = >

- ۱۰۰ ۱۰ بسته ی ده تایی ۸۹۲ ۸۹۸
- ۲۰ میلی متر ۲ سانتی متر و ۱ میلی متر ۴۵ + ۱۸ ۶۴

۶۰- وسایل نقلیه برای حرکت به چه چیزی احتیاج دارند؟

.....

۶۱- شکل بعدی کدام است؟



۶۲- به هر کلمه «ای» اضافه کن و با آن ها جمله بساز.



بچه: ←

پرنده: ←

۶۳- دور کلمه هایی که هم با «ها» و هم با «ان» جمع می شوند، خط بکش.

کتاب - ماشین - مرد - کلاس - درخت - دوست



۶۴- با سه عدد ۵ و ۱ و ۷ هر چه می توانی عدد سه رقمی بنویس . (غیر تکراری)


۶۵- در یک باغ ۱۴۰ درخت هلو و ۲۵۹ درخت گیلاس وجود دارد . این باغ چند درخت میوه دارد ؟

۶۶- پدر یلدا صیّاد است . او امسال ۶۲۵ ماهی سفید و ۲۳۴ ماهی آزاد صید کرده است .

پدر یلدا چند ماهی صید کرده است ؟

۶۷- به نظر شما کدام یک را اگر مصرف کنیم ، روزی تمام می شود ؟

الف) گرمای خورشید ب) باد ج) نفت



۶۸- به آخر هر کلمه « ی » اضافه کن و معنی آن را بنویس .

مانند : تهران + ی ← تهرانی یعنی کسی که اهل تهران است .

شیراز + _____ ←

چوب + _____ ←



۶۹- مرتب کن .

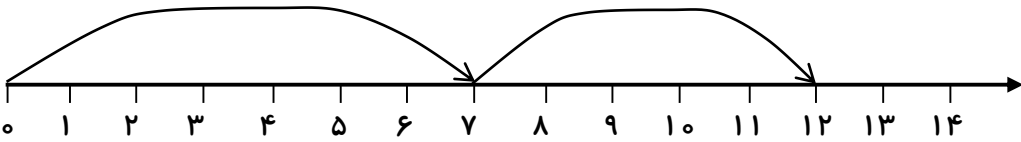
صبحگاهی آفتاب می تابد قشنگ

.....

۷۰- گل فروشی ۶۸ شاخه گل داشت . او ۳۵ شاخه را فروخت . حالا او چند شاخه گل دارد ؟

.....

۷۱- جمع یا تفریق مربوط به محور را بنویس .




۷۲- با دو عدد ۱۳۰ و ۲۸۰ یک تفریق بنویس . (ستونی)

- -----

۷۳- نام چند میوه بنویس که مثل سیب چند دانه دارند .

.....

تخم مرغ های زیر را برای عید رنگ آمیزی کن .



تأیید ولی :

تاریخ انجام تکالیف :