

بوی باران، بوی سبزه، بوی خاک
شاخه‌های شسته، باران خورده، پاک
آسمان آبی و ابر سپید
برگ‌های سبز بید
نرم نرمک می‌رسد اینک بهار
خوش به حال روزگار
خوش به حال چشمه‌ها و دشت‌ها
خوش به حال دانه‌ها و سبزه‌ها
خوش به حال غنچه‌های نیمه باز

لبتان پر خنده، قلبتان از مهر آکنده

نورزتان فرخنده باد!



سال نو مبارک



۱- خمس عدد ۱۲۵ کدام گزینه است؟

- الف) ۲۰ ب) ۳۰ ج) ۲۵ د) ۳۵

۲- عدد دهم در الگوی روبرو چند است؟ ۴ و ۹ و ۱۴ و ۲۰ و ۲۵ و ۳۰ و ۳۵ و ۴۰ و ۴۵ و ۵۰ و ۵۵ و ۶۰ و ۶۵ و ۷۰ و ۷۵ و ۸۰ و ۸۵ و ۹۰ و ۹۵ و ۱۰۰

- الف) ۴۹ ب) ۱۹ ج) ۳۴ د) ۳۹

۳- شش درخت در یک ردیف پارک قرار دارند. فاصله‌ی هر کدام از دو درخت کنار هم ۴ متر است.

اگر از اولین درخت حرکت کنیم و تا آخرین درخت برویم چند متر راه رفته‌ایم؟

- الف) ۲۴ متر ب) ۲۰ متر ج) ۳۰ متر د) ۳۲ متر

۴- حاصلضرب ۱۳×۵۱۷ چند است؟

- الف) ۲۷۶۱ ب) ۶۷۲۱ ج) ۶۲۷۱ د) ۱۶۷۲

۵- کدام تفریق درست است؟

الف) $\frac{۲}{۳} = \frac{۲}{۱} - \frac{۵}{۳}$ ب) $\frac{۲}{۷} = \frac{۶}{۷} - \frac{۹}{۵}$

ج) $\frac{۳}{۲} = \frac{۵}{۴} - \frac{۷}{۶}$ د) $\frac{۱}{۸} = \frac{۶}{۹} - \frac{۸}{۷}$

✿ جاهای خالی را با کلمات یا اعداد مناسب کامل کنید.

۱) در عدد ۱۷۵۹۷۰۰۲ بزرگترین رقم در قرار دارد.

۲) $\frac{۴}{۷}$ عدد ۲۱ است.

۳) سه تن کیلوگرم است.

۴) عدد ۴۷۶۵۲ با تقریب صدگان

۵) ۵۵ دقیقه بعد از ساعت ۴:۴۰ می شود.



❁ به سوالات زیر پاسخ دهید:

۱- مینا ۵ کیک داشت. اگر او $\frac{3}{7}$ یک کیک را خورده باشد. چه کسری از کل کیک ها برایش باقیمانده است؟

۲- حاصل عبارت های زیر را به دست آورید.

$$\begin{array}{r} 472 \\ \times 509 \\ \hline \end{array}$$

$$\begin{array}{r} 895 \\ \times 23 \\ \hline \end{array}$$

$$\begin{array}{r|l} 895 & 7 \\ \hline & \end{array}$$

$$\begin{array}{r|l} 654 & 12 \\ \hline & \end{array}$$


$$\begin{array}{r} 17/8 \\ + 2/3 \\ \hline \end{array}$$

$$\begin{array}{r} 6/4 \\ + 3/2 \\ \hline \end{array}$$

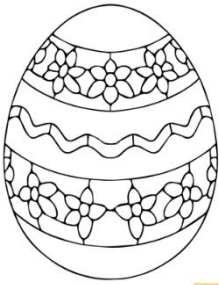
$$\begin{array}{r} 9/3 \\ - 6/5 \\ \hline \end{array}$$

$$\begin{array}{r} 7/8 \\ - 6/9 \\ \hline \end{array}$$

۳- علی ساعت ۷:۴۰ از منزل خارج شد و ساعت ۱۱:۲۰ به مقصد رسید. او چه مدت در راه بوده است؟



۴- می خواهیم ۹۸۷ کیلو گرم سیب را در جعبه های ۱۵ کیلوگرمی تقسیم کنیم .
چند جعبه لازم داریم و چند کیلو گرم از سیب ها باقی می ماند ؟



۵- یک جعبه شکلات ۷ ردیف ۹ تایی شکلات دارد . $\frac{2}{3}$ این شکلات ها چند تا می شود ؟

۶- دو میله به طول های $\frac{7}{9}$ و $\frac{4}{3}$ متر را به هم جوش می دهیم . طول میله ی جدید چند متر است ؟

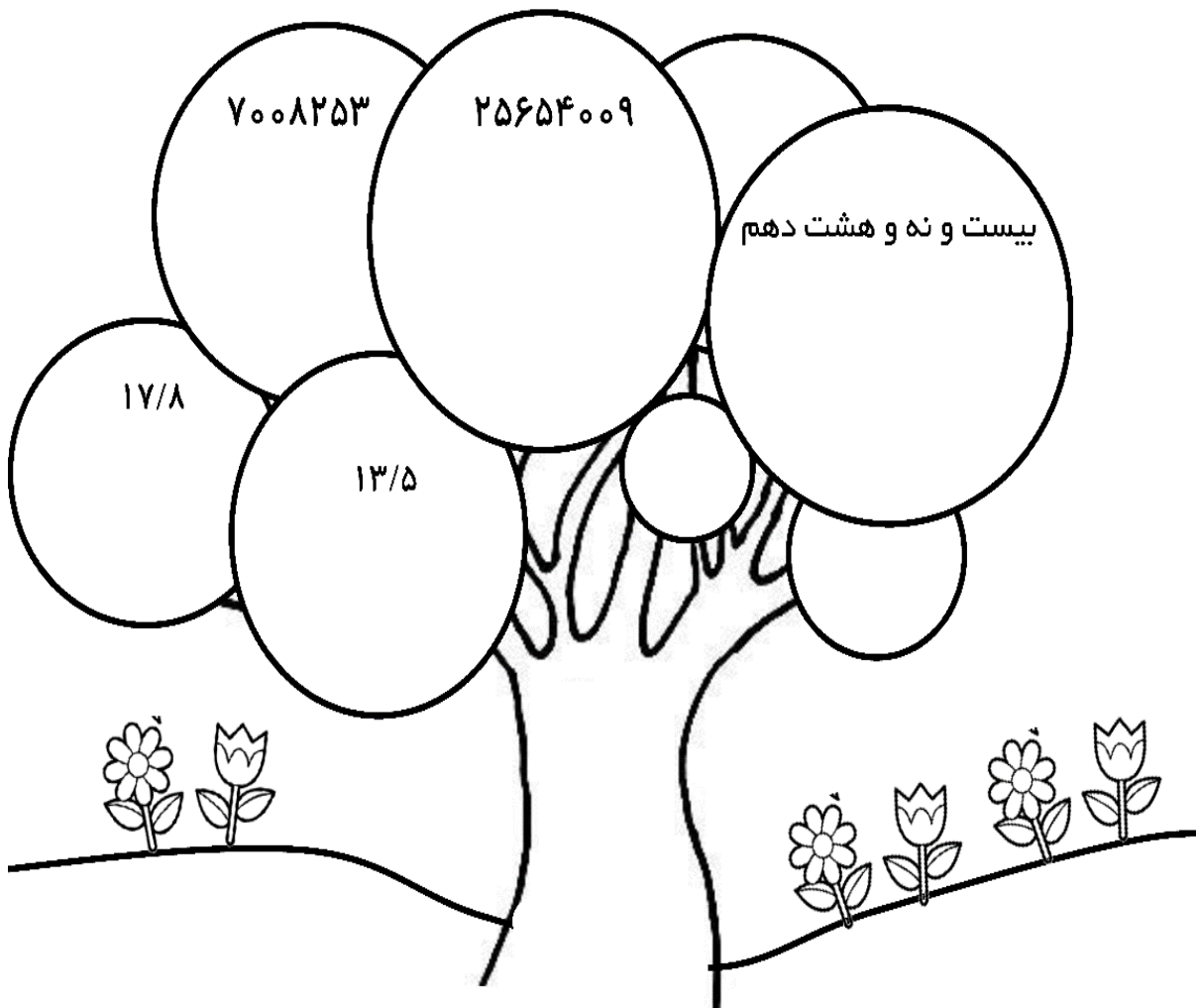


۷- پارچه ای به طول ۸ متر داریم . اگر $\frac{5}{3}$ متر از این پارچه را جدا کنیم . چند متر باقی می ماند ؟

۸- می خواهیم ۷ بسته ای ۱۵ تایی مداد را به طور مساوی بین ۵ نفر تقسیم کنیم . به هر نفر چند مداد می رسد ؟



۹- به حروف و به عدد بنویسید.





سال نو مبارک





تأیید ولی:

تاریخ انجام تکالیف:





۱- برای صرفه جویی در آب در هر تصویر یک راهکار بنویسید .



۲- سلول های روده ی باریک و معده را با رسم شکل نشان دهید ؟

با توجه به شکل صفحه ی ۷۹ کتاب علوم تجربی .

۳- برای هر کدام از محلول های زیر یک مثال بنویسید .

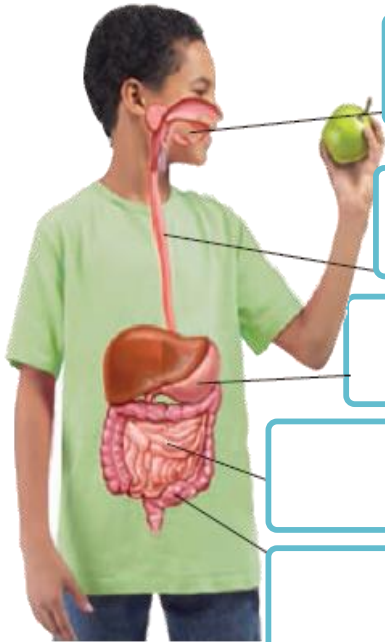


مایع در مایع :

جامد در مایع :

گاز در مایع :

۴- هر بخش چه فعالیتی انجام می دهد .



۵- برای مراقبت از سیاره ی زیبای زمین چه باید کرد ؟ (با ذکر ۳ مورد)





پیک نوروز ۱۴۰۵

با خلاقیت خود برای سفره‌ی هفت سین یک تنگ ماهی بسازید.

تا مجبور نباشید یک ماهی قرمز را در تنگ زندانی کنید. با این کار یک ماهی قرمز در سال جدید

نمی‌میرد. از این نمونه‌ها استفاده کنید.



عروسک نمدی

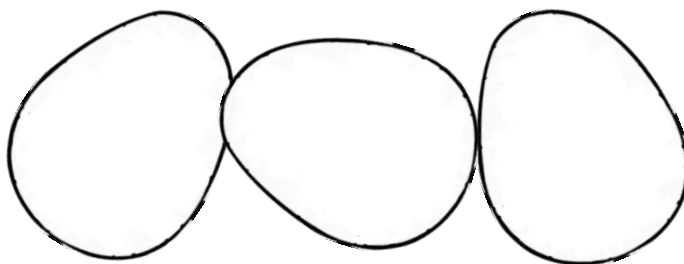
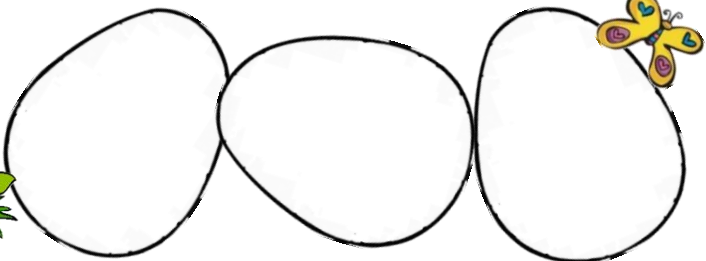



مقوایا تخمه و کاغذ رنگی



بشقاب پلاستیکی و کاغذ رنگی

تخم مرغ‌های زیر را برای عید رنگ آمیزی کن.





۱- در مورد تصویر یک بند توصیفی بنویسید.



رفتگر

Blank writing area with three horizontal lines for the student to write a descriptive sentence about the cleaner.

۲- جدول را کامل کنید.

۱- سلاح دفاعی زنبور

۲- هم معنی صبور

۳- علامت بیماری است.

۴- تبدیل مایع به گاز

۵- خاک مناسب سفالگری

۶- یک کلمه ۵ حرفی که آخر آن

(ر) باشد.

۷- مخالف شروع

۸- در محلول آب و نمک ، حلال

کدام است؟

۹- هم معنی رطوبت

۱۰- هم معنی نادر

Crossword puzzle grid with numbered clues and arrows indicating the direction of the words.

Clues and directions:

- ۱: Down arrow pointing to the top-right cell.
- ۲: Left arrow pointing to the middle-right cell.
- ۳: Left arrow pointing to the middle-right cell.
- ۴: Down arrow pointing to the middle-right cell.
- ۵: Left arrow pointing to the bottom-right cell.
- ۶: Down arrow pointing to the middle-right cell.
- ۷: Down arrow pointing to the middle-right cell.
- ۸: Down arrow pointing to the middle-right cell.
- ۹: Left arrow pointing to the bottom-right cell.
- ۱۰: Down arrow pointing to the top-left cell.

۳- با این حروف ۱۲ کلمه‌ی معنی دار در سبب‌ها بنویسید.

ع ب م ج ض ر ا ت و ق ا ی غ ح



۴- کلمات هم معنی را به هم وصل کنید .




ناتوان	ربّ جلیل
صاحب شگفتی‌ها	خرد
کوچک	عاجز
زندگی کردن	ابوالعجائب
خدای بلند مرتبه	زیستن

۵- با مخالف (متضاد) کلمات زیر یک جمله بساز .

- تاریکی
- طولانی
- پاکیزه


خاطره‌ی یک روز خود در تعطیلات عید نوروز را در یک بند بنویسید.



تأیید ولی:

تاریخ انجام تکالیف:





درباره ایران بخوانید...

و جدول را کامل کنید.

ایران کشوری در جنوب غربی آسیا و در منطقه خاورمیانه با ۱۰۶۴۸۰۱۹۵ کیلومتر مربع وسعت دارای جمعیتی حدود ۸۵۰۰۰۰۰۰ نفر است. پایتخت و بزرگ‌ترین شهر آن تهران است. ایران از شمال با جمهوری آذربایجان، ارمنستان و ترکمنستان، از شرق با افغانستان و پاکستان و از غرب با ترکیه و عراق همسایه است همچنین از شمال به دریای خزر و از جنوب به خلیج فارس و دریای عمان محدود می‌شود که از مناطق مهم استخراج نفت و گاز در جهان هستند. زبان رسمی در ایران در عصر حاضر زبان فارسی است.

جمعیت	مساحت	زبان	پایتخت	همسایه شرقی	همسایه غربی	همسایه شمالی	دریاهای مرزی